

6

КОШКИН ДОМ

1

Найди и обведи все домики, в которых живут три кота, а собак больше, чем птичек.



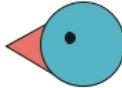
= КОТ



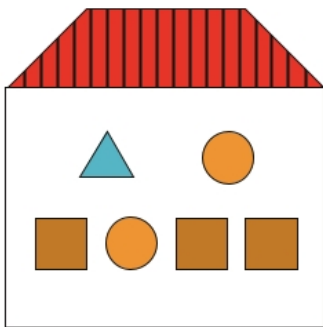
= СОБАКА



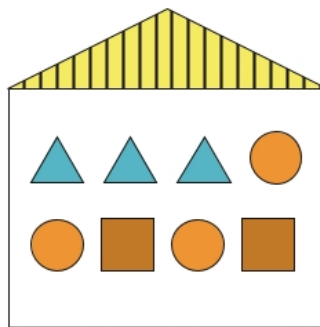
= ПТИЧКА



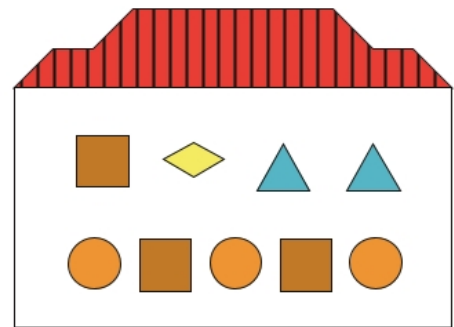
= РЫБКА



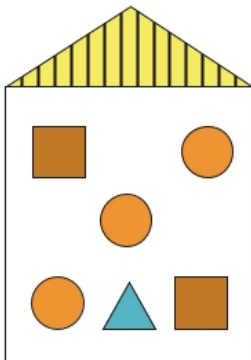
А



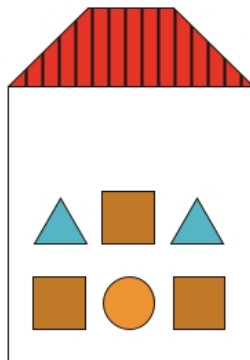
Б




В




Г



Д



Е



Ж

2

Нарисуй домик, в котором живут коты, собаки, птички и рыбки. Сделай так, чтобы количество животных в домике было разным.



Сосчитай, сколько животных обитает в домике.



[Почитать описание, рецензии
и купить на сайте](#)

Лучшие цитаты из книг, бесплатные главы и новинки:

