

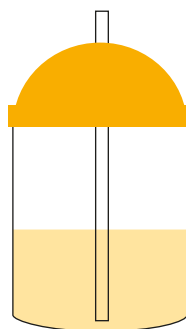
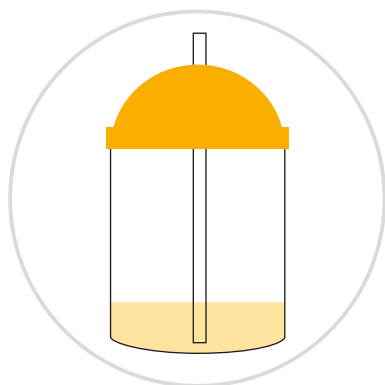


Где меньше жидкости?

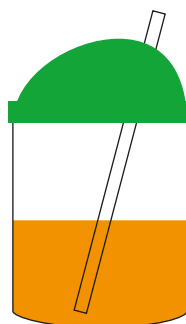
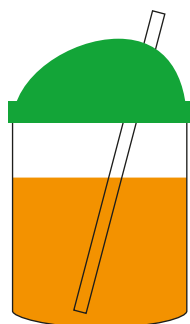
Имя
Дата

■ В какой из двух ёмкостей жидкости меньше? Обведи эту ёмкость.

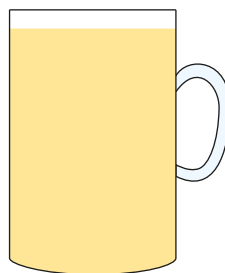
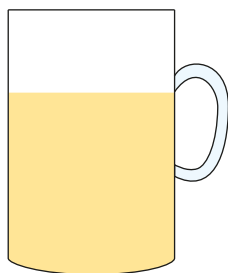
①





②



③



④





[Почитать описание, рецензии
и купить на сайте](#)

Лучшие цитаты из книг, бесплатные главы и новинки:

