

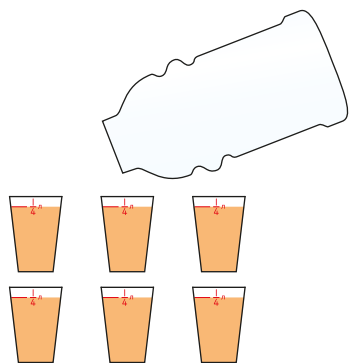
18 Стаканы

Имя

Дата


■ В каждой ёмкости помещается определённое количество стаканов жидкости. Обведи в скобках число, обозначающее объём ёмкости.

①




(6 стаканов)

②



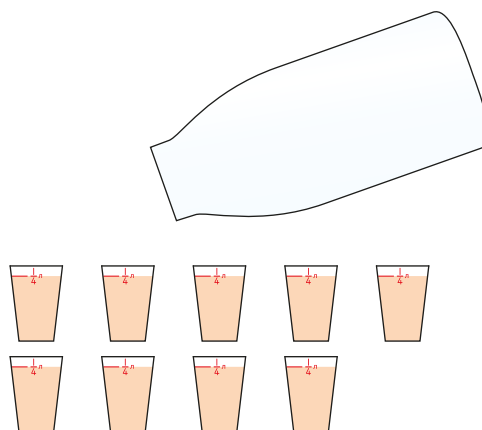
(7 стаканов)

③




(8 стаканов)

④



(9 стаканов)

⑤



(10 стаканов)



[Почитать описание, рецензии
и купить на сайте](#)

Лучшие цитаты из книг, бесплатные главы и новинки:

