

13

Равная длина



Имя
Дата

■ Раскрась сверху столько прямоугольников, чтобы длина верхнего ряда стала равна длине нижнего.

①




②



③



④



⑤

