


0:45

Проложи маршрут из точки А в точку Б.  
Это не так трудно, как кажется  
На первый взгляд!







Б

[Почитать описание, рецензии и купить на сайте МИФа](#)

0:45

Какие из этих веревок затянутся в узел?



[Почитать описание, отзывы и купить на сайте МИФа](#)

Реши последний пример.

$$\text{apple} + \text{apple} + \text{apple} = 21$$

$$\text{apple} + \text{pear} + \text{pear} = 61$$

$$\text{pear} + \text{orange} + \text{orange} = 43$$

$$\text{apple} + \text{pear} + \text{orange} = \dots$$

# Разбери Носки по парам. Сколько пар оказалось?



5:00

Найди 51 отличие между этими картинками.



[Почитать описание, рецензии и купить на сайте МИФА](#)



[Почитать описание, рецензии и купить на сайте МИФа](#)



[Почитать описание, рецензии  
и купить на сайте](#)

Лучшие цитаты из книг, бесплатные главы и новинки:

